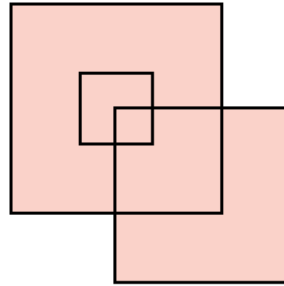


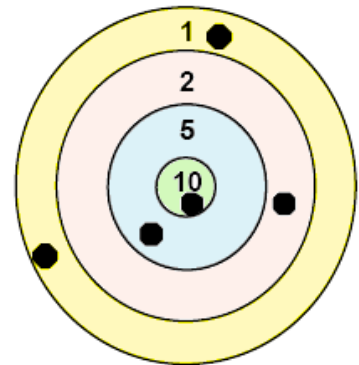
**N°1**

Combien y a-t-il de carrés dans cette figure ?




**N°2**

Léa a lancé 6 fléchettes et a marqué 24 points.  
Une fléchette est tombée.

Où était-elle plantée ?

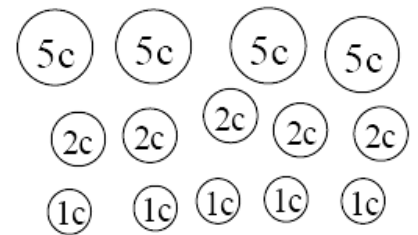
**N°3**

Sur les plateaux, il reste la moitié des croissants  que le pâtissier avait fabriqués.  
Combien de croissants le pâtissier avait-il fabriqués ?

**N°4**

Voici les pièces de mon porte-monnaie.  
Pour payer une sucette à 17 centimes, j'ai  
donné exactement 6 pièces.

Colorie les pièces que j'ai données.

**N°5**

Quelle flèche va transpercer la pomme ?

