
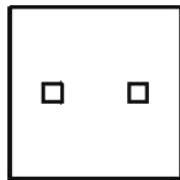


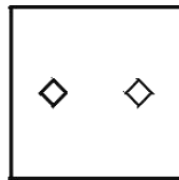
**N°1** On a plié cette feuille carrée en quatre et on a découpé un des coins.



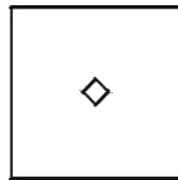
Que verra-t-on en dépliant cette feuille ?



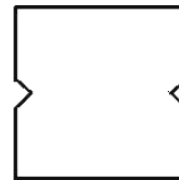
A



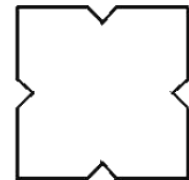
B



C



D




E

**N°2** Dans la rue de Sophie, les maisons sont numérotées de 1 à 34.



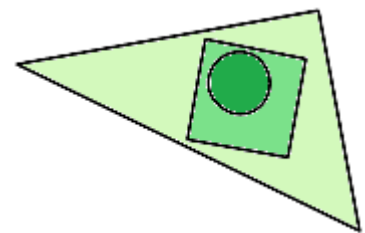
Combien de fois voit-elle le chiffre 2 quand elle parcourt toute sa rue ?

**N°3** Combien y a-t-il de cubes dans cette construction ?



**N°4** Coche ce que tu vois.

- Un cercle et un carré à l'intérieur d'un rectangle.
- Un carré à l'intérieur d'un cercle et d'un triangle.
- Un cercle à l'intérieur d'un carré et d'un triangle.
- Un cercle et un triangle à l'intérieur d'un triangle.
- Un triangle et un cercle à l'intérieur d'un carré.



**N°5**




Lulu

est plus rapide que



Lolo



Lala

est plus rapide que



Lili



Lili

est plus rapide que




Loulou



Lolo

est plus rapide que



Lala

Range les poissons du plus rapide au moins rapide.