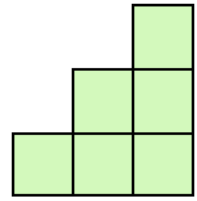


N°1 Pour construire cet escalier à 3 marches, j'ai utilisé 6 cubes.

Combien faut-il de cubes en tout pour construire un escalier à 5 marches ?



N°2 Olivier fait un sourire. Julien a des lunettes. Mathéo porte une casquette.
Où est Arthur ?




A



B



C



D

N°3 Zyk est un élève extraterrestre qui fait toutes ses opérations justes.
Quel est le résultat de la dernière opération ?

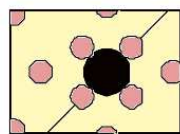
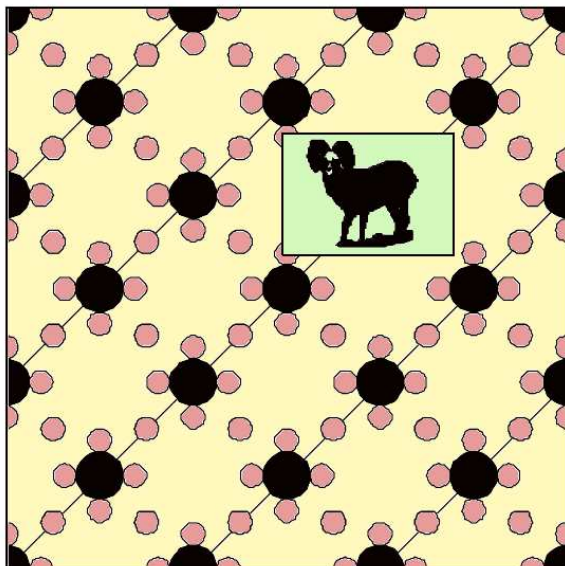
$$4 \times 2 = 5$$

$$8 \times 4 = 11$$

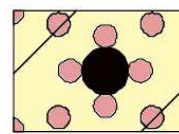
$$3 \times 2 = 4$$

$$3 \times 4 = \dots$$

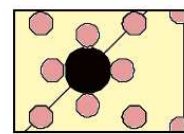
N°4 Quel morceau de tapisserie y a-t-il derrière la photo ?



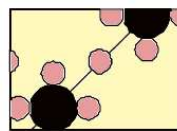
1



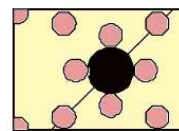
2



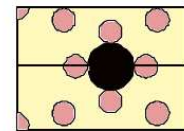
3



4



5



6

N°5 Observe les deux dessins et range les fruits du plus lourd au plus léger.

