


















N°1

L'étoile ☆ est dans la case C3

Dans quelle case se trouve l'avion ✈ ?

	?	B	?	D
1				
2				
?				
?				

N°2



Julie a choisi une poupée.

Elle n'a pas de jupe, elle n'a pas de veste et elle a un chapeau.

Quelle poupée Julie a-t-elle choisie ?

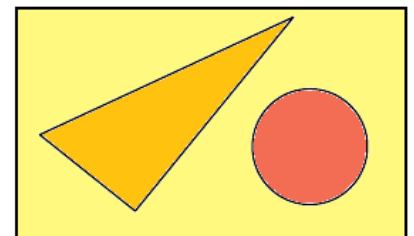
N°3 Sullyvan veut faire 7 tours de cubes comme celle-ci.

Combien lui faudra-t-il de cubes noirs et de cubes blancs ?



N°4 Coche ce que tu vois :

- Un cercle et un carré à l'intérieur d'un rectangle.
- Un carré à l'intérieur d'un cercle et d'un triangle.
- Un triangle et un cercle à l'intérieur d'un carré.
- Un carré et un cercle à l'intérieur d'un triangle.
- Un triangle et un cercle à l'intérieur d'un rectangle.



N°5

Combien y a-t-il de poissons dessinés ?

