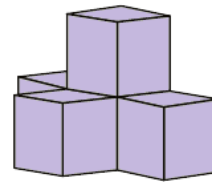



**N°1** Combien y a-t-il de cubes dans cette construction ?



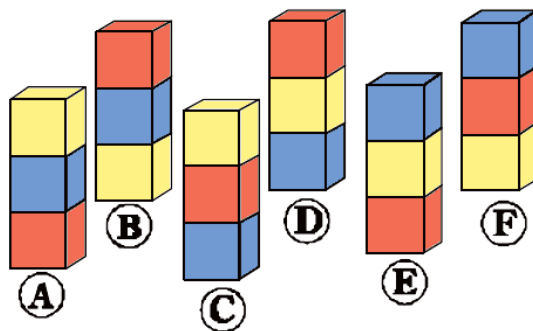
**N°2** Colorie les carrés qui sont à l'intérieur du cercle et à l'extérieur du rectangle.

Combien de carrés as-tu coloriés ?



**N°3** Les enfants ont fait des piles de cubes.  
Laura dit : « Dans ma pile de cubes :  
Le bleu est au-dessus du jaune.  
Le jaune est au-dessus du rouge. »

Quelle est la pile de Laura ?



2 girafes se rendent au point d'eau.  
Chaque girafe porte 3 singes sur son dos.  
Chaque singe a 2 oiseaux sur la queue.  
Chaque oiseau sert de perchoir à 1 mouche.

Combien d'animaux se rendent au point d'eau ?

**N°5** Aide la chenille à se déguiser en coloriant  
3 de ses anneaux.  
Quand on additionne les 3 anneaux  
coloriés, le total doit faire 23.

