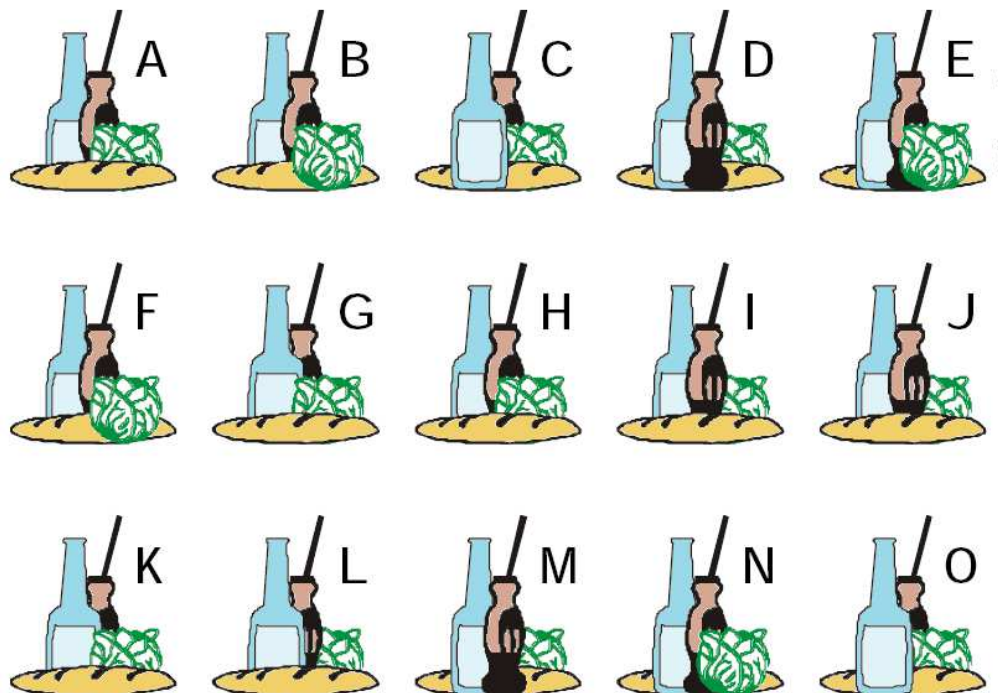


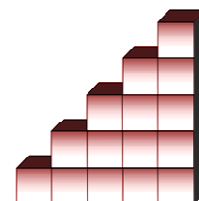
**N°1** Tous les dessins vont par deux sauf un. **Lequel ?**




**N°2** Observe la suite, trouve la règle et complète.



**N°3** Combien faut-il ajouter de cubes pour construire deux autres marches à cet escalier ?



**N°4** J'ai collé des gommettes de formes différentes sur ma feuille.  
**Dans quel ordre les ai-je collées ?**



**N°5** Le mur du jardin est cassé.

**Combien faut-il de briques pour le réparer ?**

