


Prénom :

Date :

LE MÈTRE

1- Voici la règle jaune de la classe. **Complète** la bulle.



1 mètre, c'est centimètres.

On écrit **1 m = cm**




2- **Calcule** la hauteur de chaque enfant.

13 cm




..... m et cm
c'est comme cm

37 cm



..... m et cm
c'est comme cm

24 cm



..... m et cm
c'est comme cm

3- **Complète** avec **m** ou **cm**.

Un crayon mesure 15

La tour Eiffel mesure un peu plus de 300

Certains joueurs de basket ball mesurent plus de 2



La hauteur d'un livre est d'environ 30

Mon petit frère mesure 108

Une guêpe mesure 2

4- **Écris** les noms des oiseaux qui mesurent **plus de 1 mètre** lorsqu'ils déploient leurs ailes.

Aigle royal :
220 cm



Chouette hulotte :
101 cm



Martin-pêcheur :
26 cm



Colvert :
98 cm



Cigogne :
2 m



Faucon pèlerin :
110 cm

