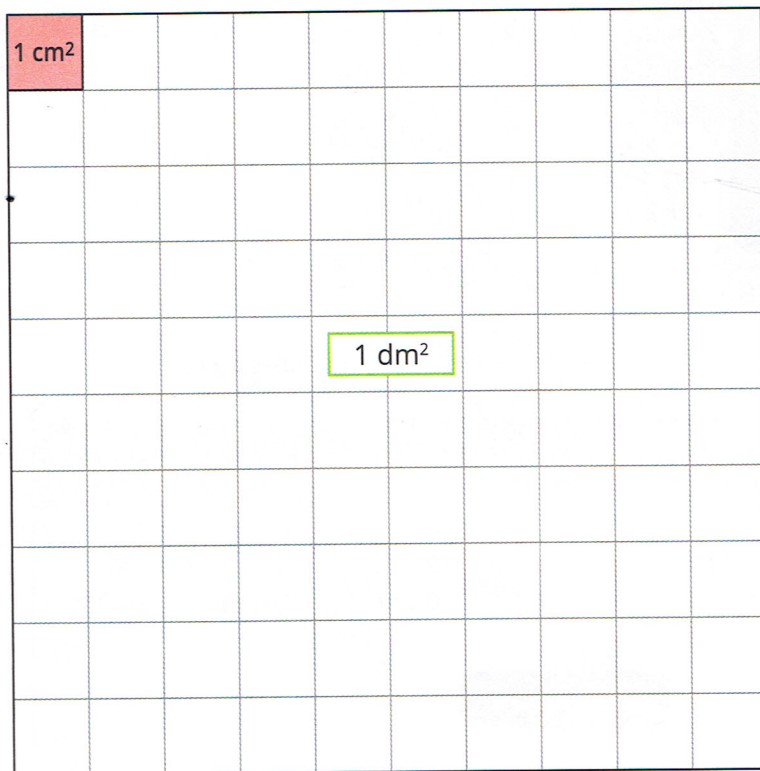


Les unités d'aire (1)

Je retiens

Ce carré a pour côté 10 cm ou 1 dm.



• Un carré de 1 cm de côté a une aire de **1 cm²** (1 centimètre carré).


• Un carré de 1 dm de côté a une aire de **1 dm²** (1 décimètre carré).

1 dm² = 100 cm²

• Un carré de 1 mm de côté a une aire de **1 mm²** (1 millimètre carré).

1 cm² = 100 mm²


Dans 1 cm², il y a 100 mm².



Grandeurs et mesures

J'applique

* Écris l'aire du rectangle.



► En cm² :

► En mm² :

* Transforme.

2 dm² = cm² 10 cm² = mm² 300 mm² = cm²

15 dm² = cm² 4 cm² = mm² 600 mm² = cm²

* Trouve l'aire de la surface rose.

► En cm² :

► En mm² :

