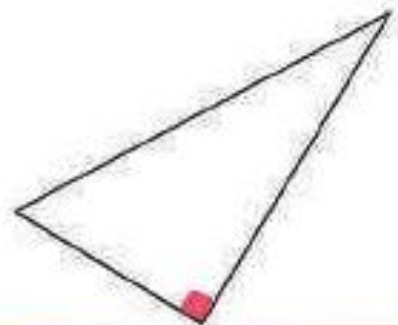
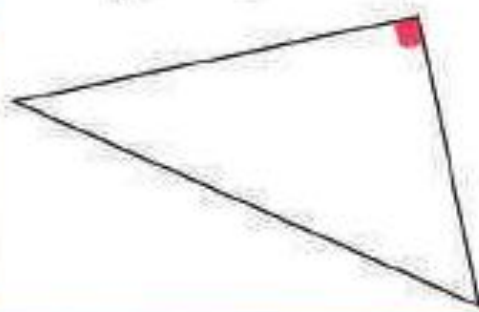


1 Trouve l'angle droit de chaque triangle rectangle. Marque-le en rouge.

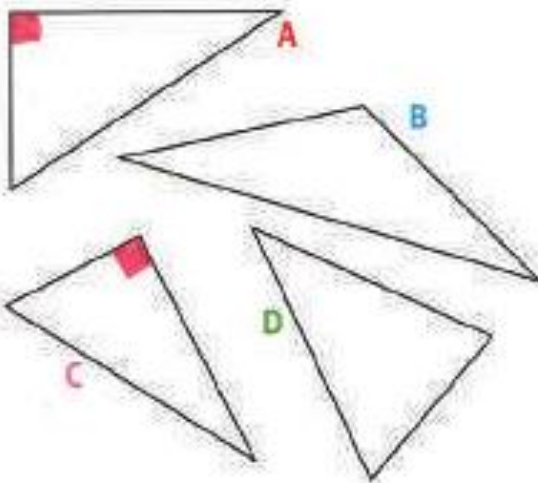
Matériel cartonné



Un triangle rectangle a 1 angle droit.

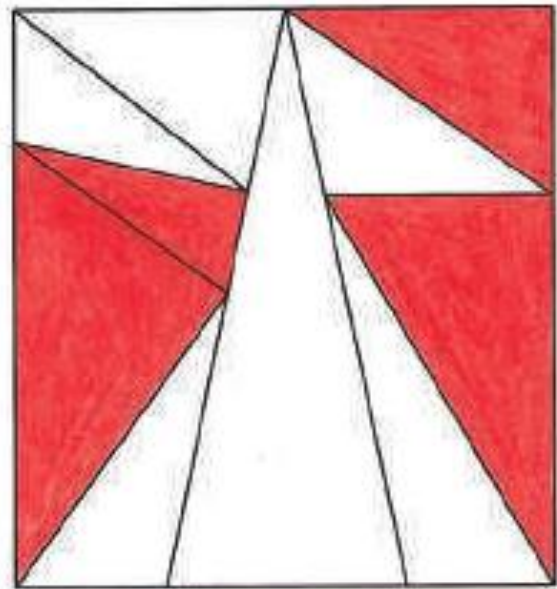


2 Quels triangles sont des triangles rectangles ? Marque leur angle droit.

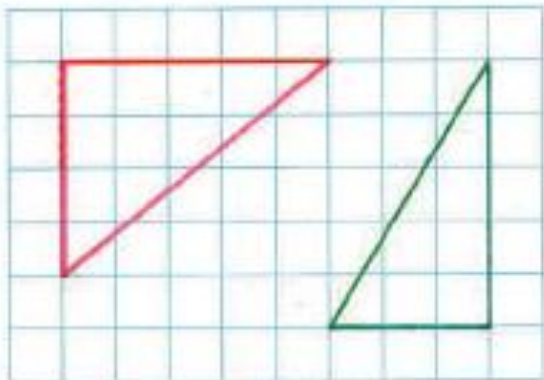


Ce sont les triangles **A et C**

3 Dans cette figure, il y a 4 triangles rectangles. Colorie-les.



4 **Tracés** Termine le tracé pour obtenir deux triangles rectangles.



5 **Tracés** Trace un triangle rectangle. Les côtés de l'angle droit mesurent 3 cm et 5 cm.



Vérifie avec le calque.

