




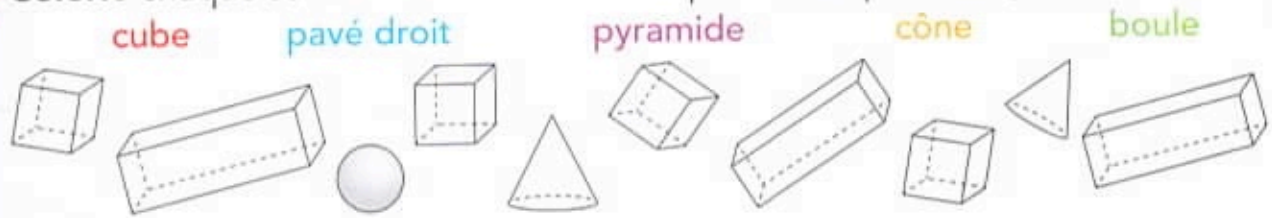


Je travaille seul(e)

3 **Coche** le ou les solides pour lesquels ces phrases sont vraies.

	 cube	 pavé droit	 pyramide	 cône	 boule
Il a 6 faces.					
Il a 5 faces.					
Toutes ses faces sont carrées.					
Il a des faces rectangulaires.					
Il a des faces triangulaires.					
Sa base est ronde.					
Il n'a ni côtés ni sommets.					

4 **Colorie** chaque solide de la couleur correspondante, puis **complète**.



5 **Entoure** en **bleu** la boîte dans laquelle Flip a rangé son saxophone et en **rouge** celle dans laquelle il a rangé son tambour. **Écris** le nom de chaque solide correspondant.



Je révisé

Trace un rectangle de 6 cm et 2 cm de côtés. À l'intérieur de ce rectangle, trace un carré de 1 cm de côté.

