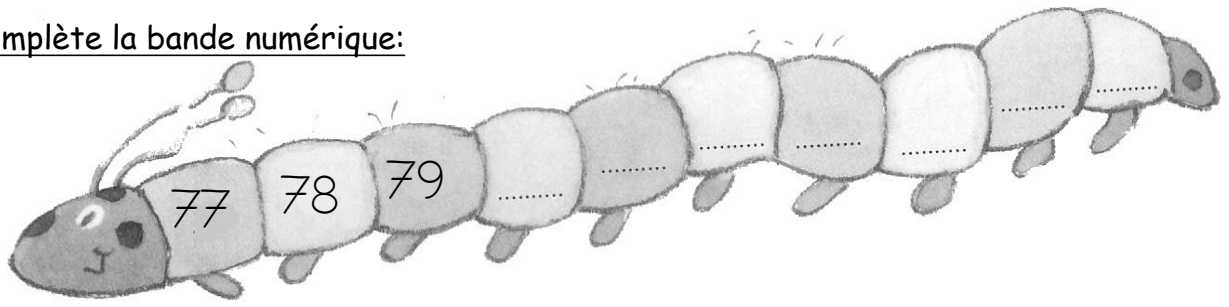


Nombres et quantités : de 0 à 90



1 Complète avec le bon nombre :

2 Complète la bande numérique:




Nombres et quantités : de 0 à 90

1 Complète les cases grises du tableau des nombres

	41								
						56			
		62							
70					75				
									89

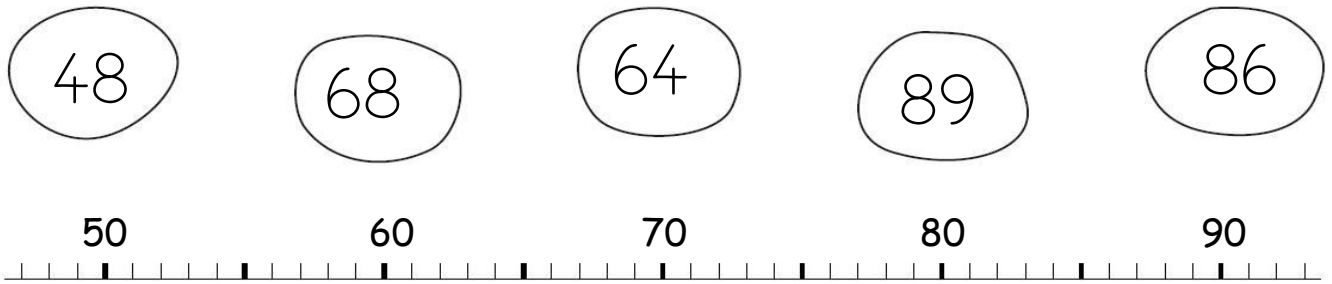
2 Colorie les pièces et billets correspondants à la somme dans la tirelire :



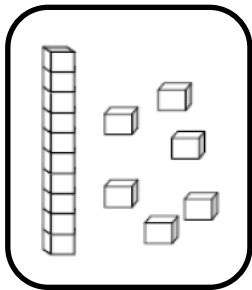
Nombres et quantités : de 0 à 90




1 Relie les nombres à leur place sur la droite graduée




2 Dessine le nombre en barres




16



86



77

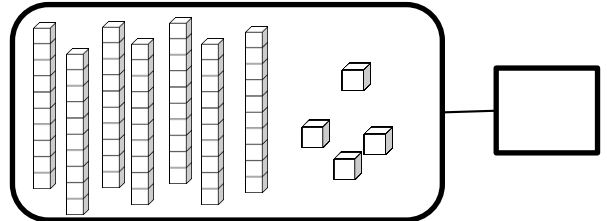
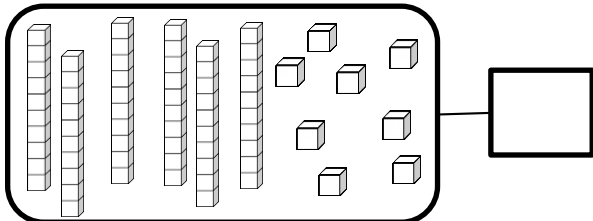
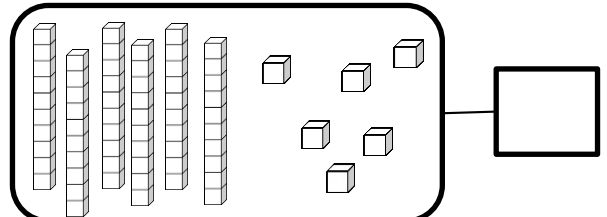
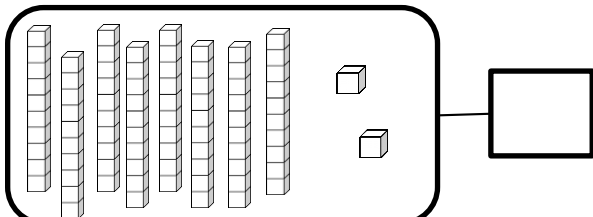


81


Nombres et quantités : de 0 à 90



1 Complète avec le bon nombre :



2 Complète la bande numérique:



Nombres et quantités: de 0 à 90



1 Aide-toi des étiquettes pour écrire les nombres

89	
64	
82	

quatre


neuf

deux

vingt


soixante

2 Complète



Nombres et quantités: de 0 à 90

1 Compte en faisant des paquets de 10



Nombres et quantités: de 0 à 90



1 Aide-toi des étiquettes pour écrire les nombres

85	
69	
84	

- quatre
- neuf
- cinq
- vingt
- soixante

2 Ecris les nombres dans l'ordre décroissant, du plus grand au plus petit:

69 - 79 - 65 - 34 - 45 - 59

□ □ □ □ □ □

Nombres et quantités : de 0 à 90

1 Complète le tableau des nombres

	41								
						56			
		62							
70					75				
									89

2 Trouve combien Arthur a d'argent dans sa tirelire :

